

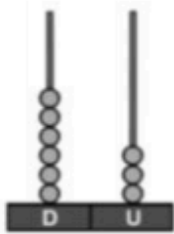


TERCERO DE EDUCACIÓN GENERAL BÁSICA "A" VESPERTINO
TAREA DE REFUERZO ACADÉMICO

Asignatura: Matemática.

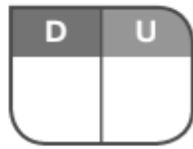
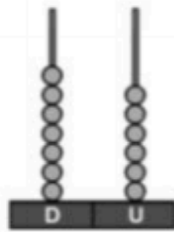
Fecha: jueves, 22 de abril del 2021.

1. Cuenta los números representados en el ábaco y completo los cuadros.



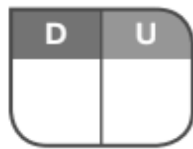
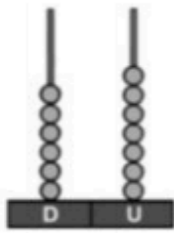
$$60 + 3 = \square$$

decenas y unidades



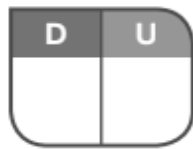
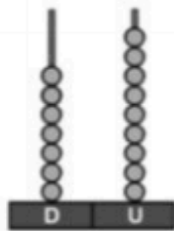
$$\square + \square = \square$$

decenas y unidades



$$\square + \square = \square$$

decenas y unidades

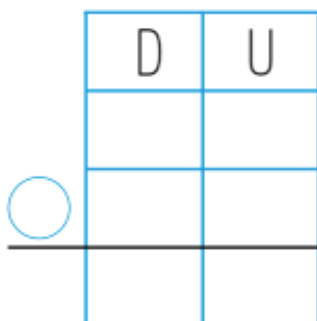


$$\square + \square = \square$$

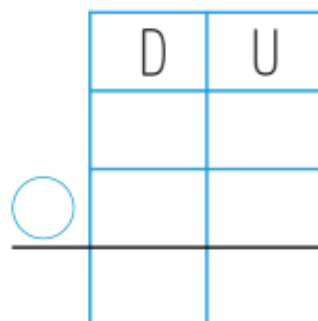
decenas y unidades

2. Ubico las cantidades de forma vertical y realizo las operaciones.

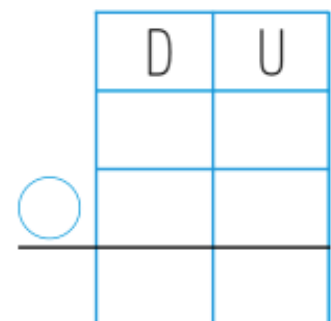
$$48 - 35$$



$$22 + 17$$



$$36 - 4$$



3. Pinto el resultado según los datos obtenidos y completo la información.



Prefieren las manzanas _____ niños

Prefieren las peras _____ niños

Prefieren el melón _____ niños