



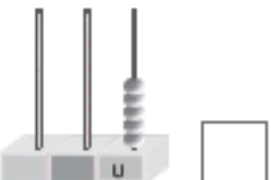
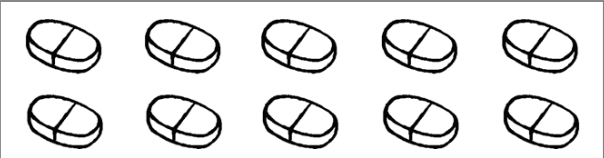
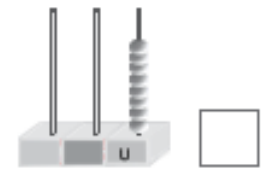

TERCERO DE EDUCACIÓN GENERAL BÁSICA "A" VESPERTINO
TAREAS SEMANA 2,3, 4 NEE
PLAN DE CONTINGENCIA

DOCENTE: Lcda. Martha Ruiz O.


Recomendaciones:

- Recuerda guardar las tareas, ya que serán revisadas y calificadas por la docente el primer día que haya asistencia a clases en establecimiento educativo.
- Todas las tareas se deben realizar bajo la supervisión y orientación del padre de familia.
- En las tareas realizadas debe constar fecha y deben ser firmadas por el padre de familia.

1.- Escribe el número y colorea los objetos que corresponden a cada número.

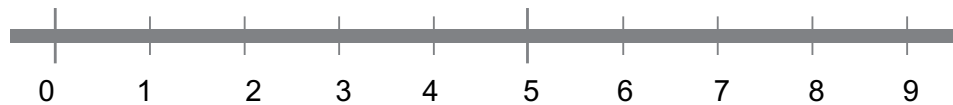
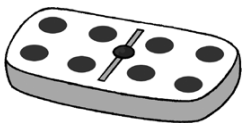
2.- Colorea así: dentro → azul fuera → rojo





3.- Suma

$$4 + 4 = \square$$

$$5 + 4 = \square$$



4.- Une según corresponde.



D	U
1	7

D	U
1	2

D	U
1	4

D	U
1	0


5.- Une cada hora con su reloj

Las 6 en punto.


Las 2 y media.

Las 8 en punto.


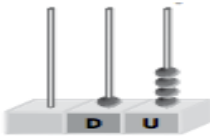
Las 6 y media.



6.- Colorea al niño que está delante la bicicleta y dibuja un sol detrás de la nube.



7.- Une según corresponde



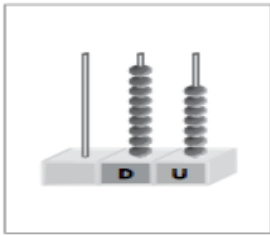
D	U
1	7

D	U
1	2

D	U
1	4


D	U
1	0

8.-Completa.






96



93



9.- Dibuja siguiendo el orden propuesto

1° Círculo

2° Cuadrado

3° sol

4° triángulo

5° flor

--	--	--	--	--

1°

2°

3°

4°

5°

10.- Suma y comprueba que los resultados sean iguales.

$36 + 14$

$14 + 36$

$27 + 47$

$47 + 27$

D	U

D	U

D	U

D	U

11.- Completa la tabla.

ANTERIOR	MES	SIGUIENTE
<div style="border: 1px solid black; height: 20px; width: 100%;"></div>	junio	<div style="border: 1px solid black; height: 20px; width: 100%;"></div>
<div style="border: 1px solid black; height: 20px; width: 100%;"></div>	diciembre	<div style="border: 1px solid black; height: 20px; width: 100%;"></div>
<div style="border: 1px solid black; height: 20px; width: 100%;"></div>	abril	<div style="border: 1px solid black; height: 20px; width: 100%;"></div>
<div style="border: 1px solid black; height: 20px; width: 100%;"></div>	septiembre	<div style="border: 1px solid black; height: 20px; width: 100%;"></div>

11.- Completa y escribe como se lee el número mayor.

45		42	

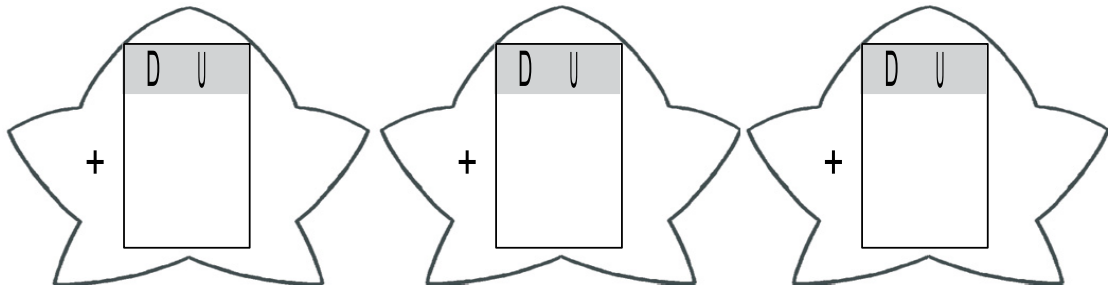
Número mayor:

12.- Coloca, suma y colorea de rojo la estrella con resultado mayor.

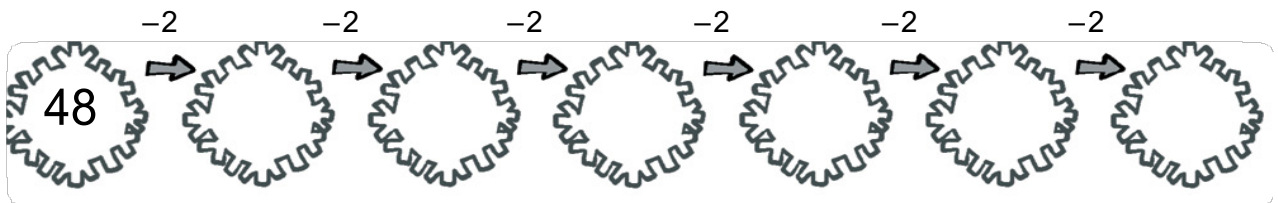
$36 + 10$

$35 + 14$

$43 + 5$



12.- Sigue la serie.



13.- Escribe el número anterior y el siguiente.

<input type="text"/>	← 61 →	<input type="text"/>	<input type="text"/>	← 67 →	<input type="text"/>	<input type="text"/>	← 63 →	<input type="text"/>
----------------------	--------	----------------------	----------------------	--------	----------------------	----------------------	--------	----------------------

14.- Suma y escribe los resultados ordenados de mayor a menor.

