



Fecha: lunes, 25 de marzo del 2021.

Asignatura: Matemática


1. Encierro los números que tienen 9 en las unidades.

<i>DU</i>	<i>DU</i>	<i>DU</i>	<i>DU</i>
11	16	29	49
17	91	28	89
13	69	79	31
99	59	15	45
44	78	61	51
39	50	90	19

2. Pinto los recuadros que se me indica en las unidades y decenas, como en el ejemplo.

D	U

*DU*  
86

D	U

*DU*  
35

D	U

*DU*  
41

D	U

29

D	U

78

D	U

63



3. Resuelvo las siguientes operaciones de **suma**.

**D U**  
34  
+ 54  
-----  
□

49  
+ 39  
-----  
□

54  
+ 23  
-----  
□

49  
+ 28  
-----  
□

90  
+ 10  
-----  
□

55  
+ 45  
-----  
□

46  
+ 54  
-----  
□


80  
+ 10  
-----  
□

4. completo:



3 centenas = 300 unidades

300 ▶



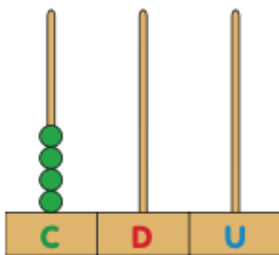
5 centenas = 500 unidades

500 ▶



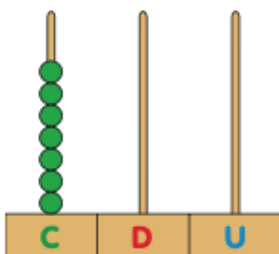
□ centenas = □ unidades

□ ▶



□ centenas = □ unidades

□ ▶



□ centenas = □ unidades

□ ▶